

2024年度

入学試験問題
(A日程)

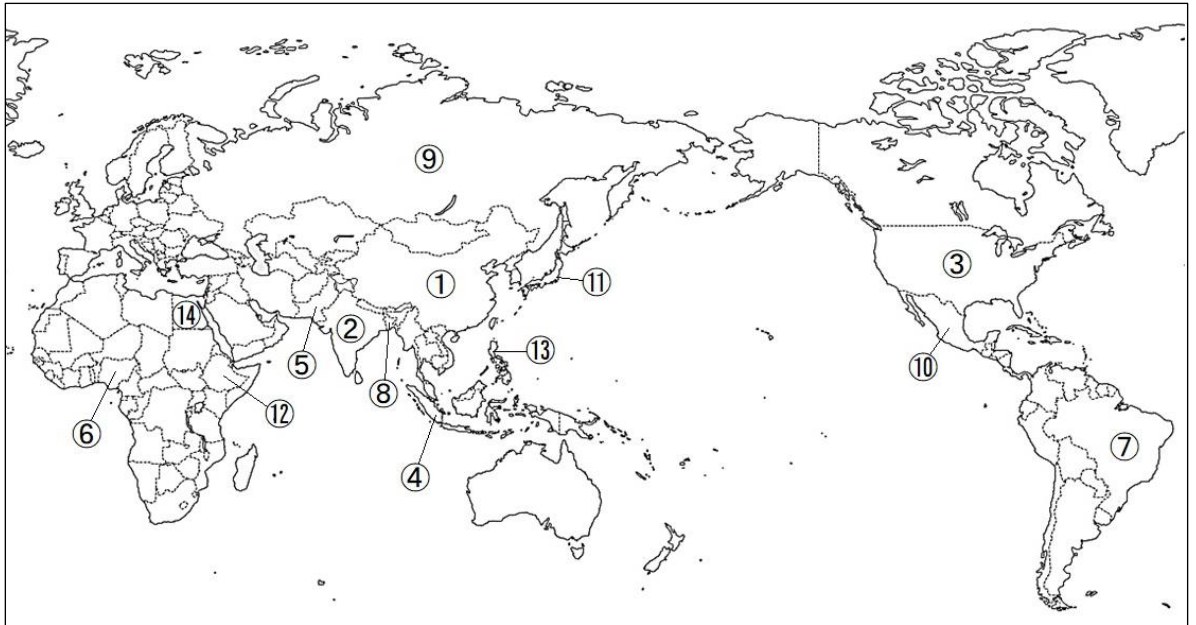
社 会

注 意

- 1 「開始」の合図があるまで開いてはいけません。
- 2 「開始」の合図で、1 ページから 23 ページまで問題が印刷されていることを確かめなさい。
- 3 **解答用紙に受験番号**を書きなさい。名前を書いてはいけません。
- 4 答えはすべて**解答用紙の指定された解答欄**に書きなさい。問題用紙に書いても得点になりません。
- 5 問題は6題で、23 ページまであります。解答用紙はこの表紙の裏にあります。
- 6 「終了」の合図で、すぐに筆記用具を置きなさい。
- 7 問題および解答用紙は机の上に置き、持ち帰ってはいけません。

社会科の問題は次のページから始まります。

- 1 2022年に世界の人口が80億人を超えました。2023年にはインドが中国を抜いて世界一の人口大国になったと推定されています。次の地図中の①～⑭は人口1億人を超えた上位14か国をあげています。なお、番号は2022年での人口の多い順です（『世界国勢図会2023/2024』より）。この地図を見て、あとの問いに答えなさい。

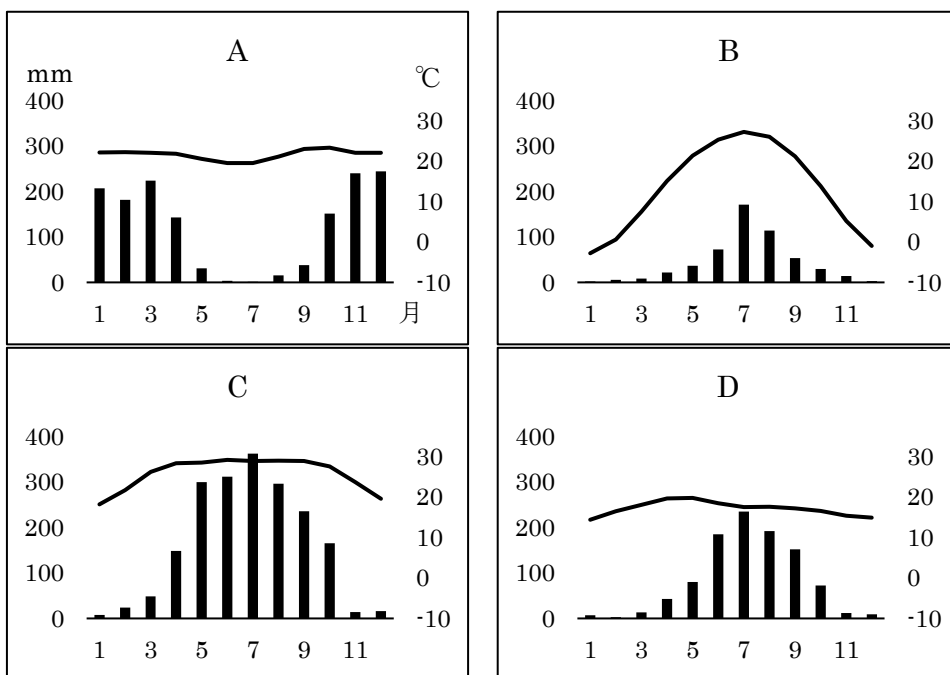


- (1) 次の表は、地図中⑦・⑩の国における民族構成を表したものです。表に「混血」とありますが、このうち、⑩に多くみられる、白人と先住民との混血を特に何というか答えなさい。

国	民族構成
⑦	ヨーロッパ系 54%，混血 39%，その他（アフリカ系，アジア系など）
⑩	混血 60%，先住民 30%，その他（ヨーロッパ系など）

（『地理統計 Plus 2022 年版』より作成）

- (2) 次の A～D はそれぞれ、地図中①・⑦・⑧・⑩の国の首都の雨温図です。①・⑦・⑧・⑩の国と、その首都の雨温図 A～D の組み合わせとして正しいものを、下のア～シから 1 つ選び、記号で答えなさい。



（『理科年表 2023』より作成）

	ア	イ	ウ	エ	オ	カ	キ	ク	ケ	コ	サ	シ
①	A	A	A	B	B	B	C	C	C	D	D	D
⑦	B	D	C	A	D	C	A	B	D	B	A	C
⑧	C	B	D	C	A	D	B	D	A	C	C	A
⑩	D	C	B	D	C	A	D	A	B	A	B	B

- (3) 次の表 A～C は、世界三大穀物（米、小麦、とうもろこし）の上位輸出国（2021 年）を表しています（表中の番号は地図中の番号と同じ）。各品目と、それを示す表 A～C の組み合わせとして正しいものを、下のア～カから 1 つ選び、記号で答えなさい。

表 A

国名	(千 t)
⑨	27,336
オーストラリア	25,563
③	24,014
カナダ	21,546
ウクライナ	19,395
フランス	16,091
アルゼンチン	9,485

表 B

国名	(千 t)
②	21,035
タイ	6,065
ベトナム	4,636
⑤	3,933
③	2,838
①	2,412
ミャンマー	1,598

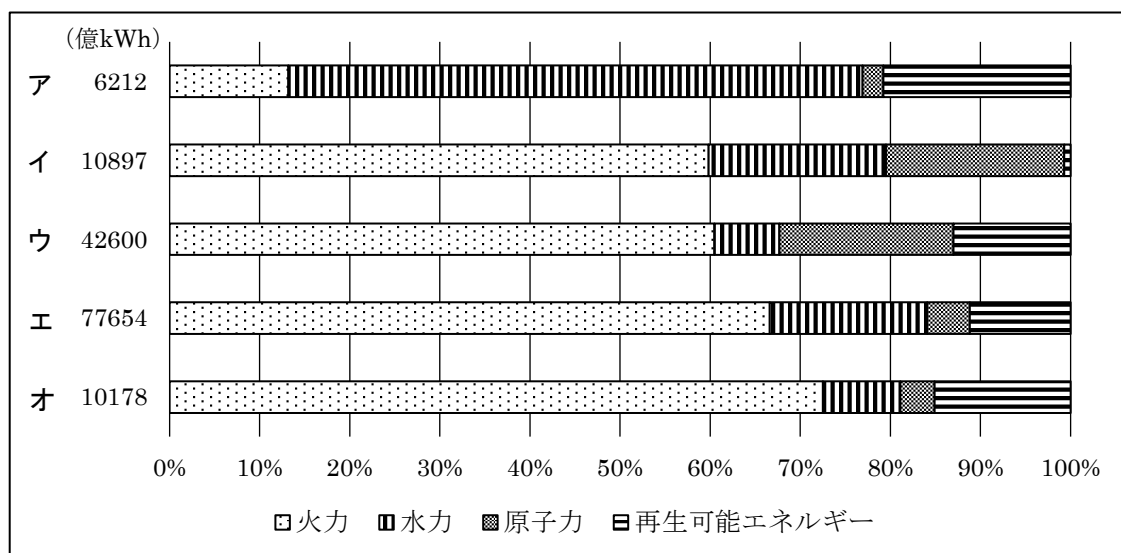
表 C

国名	(千 t)
③	70,041
アルゼンチン	36,912
ウクライナ	24,539
⑦	20,430
ルーマニア	6,904
フランス	4,303
②	3,616

（『世界国勢図会 2023/2024』より作成）

	ア	イ	ウ	エ	オ	カ
米	A	A	B	B	C	C
小麦	B	C	A	C	A	B
とうもろこし	C	B	C	A	B	A

- (4) 次のグラフは、地図中①・③・⑦・⑨・⑪の国における電力別の発電量の割合（2020 年）を表したものです。⑦と⑪の国を示すものを、グラフ中のア～オからそれぞれ 1 つずつ選び、記号で答えなさい。なお、記号の横の数字は、各国の総発電量（億 kWh）を示します。



（『2023 データブック オブ・ザ・ワールド』より作成）

(5) 次の文 a～c は、地図中⑥・⑧・⑫のいずれかの国々に関するものです。a～c の文と、地図中⑥・⑧・⑫の組み合わせとして正しいものを、下のア～カから 1 つ選び、記号で答えなさい。

- a コーヒーの原産国であるこの国は、農業が中心であるが、隣国の紛争による難民の流入や干ばつなどにより経済が圧迫されており、最貧困国の水準から抜け出せていない。
- b この国の主要産業は衣料品・繊維品、農業（ジュート・米）である。縫製業を中心とした繊維業が輸出の約 8 割を占める。ほうせいぎょう
- c この国では、キャッサバ、タロイも、ヤムいもの生産量が世界一だが、中でもヤムいものは世界生産量の半分以上を占める。

	ア	イ	ウ	エ	オ	カ
a	⑥	⑥	⑧	⑧	⑫	⑫
b	⑧	⑫	⑥	⑫	⑥	⑧
c	⑫	⑧	⑫	⑥	⑧	⑥

(6) 次の表はそれぞれ、地図中の②・④・⑥・⑦・⑩・⑬の国の上位輸出入品（2021 年）を表しています。地図中⑩の国に該当するものを、表ア～カから 1 つ選び、記号で答えなさい。

ア

上位輸出品	上位輸出品
石油製品	原油
機械類	機械類
ダイヤモンド	金(非貨幣用)

イ

上位輸出品	上位輸出品
石炭	機械類
パーム油	石油製品
鉄鋼	鉄鋼

ウ

上位輸出品	上位輸出品
原油	石油製品
液化天然ガス	機械類
船舶	自動車

エ

上位輸出品	上位輸出品
機械類	機械類
自動車	自動車
自動車部品	自動車部品

オ

上位輸出品	上位輸出品
鉄鉱石	機械類
大豆	化学肥料
原油	自動車

カ

上位輸出品	上位輸出品
機械類	機械類
野菜・果実	石油製品
銅	自動車

(『世界国勢図会 2023/2024』より作成)

2 雲雀丘学園中学校の中学3年生の研修旅行では、生徒たちが行き先や行程を考え、生徒中心で決めていくスタイルをとっています。しかも行き先は1つではなく、これまで北海道、東北、関東、中部、九州地方とコース別に分かれて研修旅行を実施しています。あとの問いに答えなさい。

(1) 下の表中のA～Cは、札幌市、旭川市、釧路市の年間降水量の月別平均値(単位:mm)を表したものです。札幌市、旭川市、釧路市と、それらを示すA～Cの組み合わせとして正しいものを、下のア～カから1つ選び、記号で答えなさい。



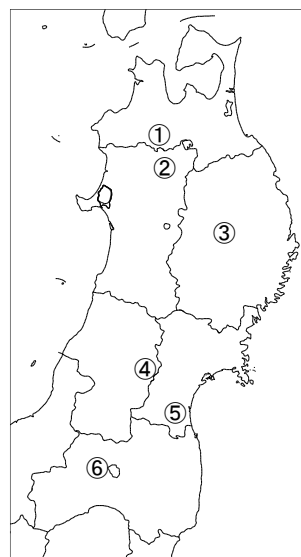
	1月	2月	3月	4月	5月	6月	7月	8月	9月	10月	11月	12月	年
A	66.9	54.7	55.0	48.5	66.6	71.4	129.5	152.9	136.3	105.8	114.5	102.4	1104.4
B	40.4	24.8	55.9	79.4	115.7	114.2	120.3	142.3	153.0	112.7	64.7	56.6	1080.1
C	108.4	91.9	77.6	54.6	55.5	60.4	90.7	126.8	142.2	109.9	113.8	114.5	1146.1

(『理科年表2023』より作成)

	ア	イ	ウ	エ	オ	カ
札幌市	A	A	B	B	C	C
旭川市	B	C	A	C	A	B
釧路市	C	B	C	A	B	A

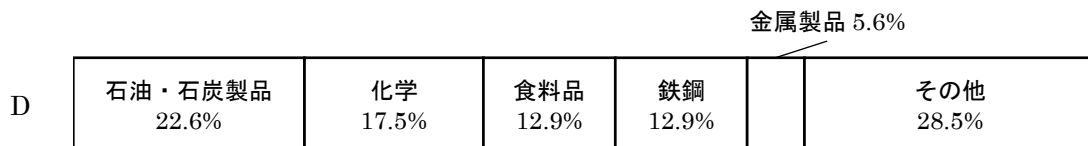
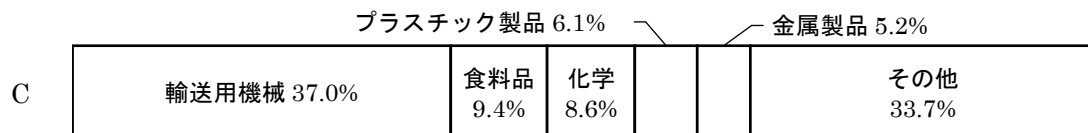


(2) 東北各地では、地域に根付いた伝統工芸品が多くあります。右の地図中の①～⑥は東北地方の伝統工芸品の産地です。地図中②に該当する伝統工芸品を、次のア～カから1つ選び、記号で答えなさい。

- ア 会津塗
- イ 津軽塗
- ウ 南部鉄器
- エ 伝統こけし
- オ 将棋駒
- カ 曲げわっぱ



(3) 関東地方について、次の問い①・②に答えなさい。

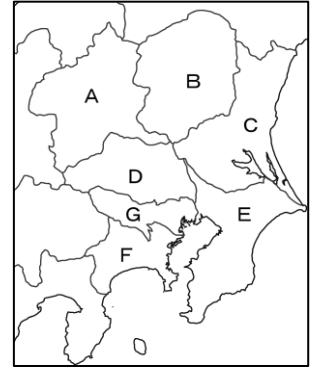
① 次のグラフは関東地方のうち、東京都、千葉県、茨城県、群馬県の製造品出荷額等の割合(2019年)を表したものです。これら4都県と、それを示すグラフA~Dの組み合わせとして正しいものを、下のア~シから1つ選び、記号で答えなさい。



(『2023 データでみる県勢』より作成)

	ア	イ	ウ	エ	オ	カ	キ	ク	ケ	コ	サ	シ
東京都	A	A	A	B	B	B	C	C	C	D	D	D
千葉県	B	D	C	C	A	D	B	A	D	C	B	A
茨城県	C	B	B	A	D	C	D	B	A	B	C	C
群馬県	D	C	D	D	C	A	A	D	B	A	A	B

② 右図の A～G の都県にある政令指定都市の総数を答えなさい。



(4) 2023 年は関東大震災から 100 年の節目を迎えた年です。日本で起こった災害について述べた文として誤っているものを、次のア～エから 1 つ選び、記号で答えなさい。

- ア 1990 年代に雲仙岳で起こった噴火は、火口に出現した溶岩ドームが崩れたことで、溶岩流が住宅地や農地を覆い尽くし、大きな被害を及ぼした。
- イ 1995 年に発生した兵庫県南部地震では、大都市である神戸市を通る活断層で地震が発生したため、住宅の倒壊や火災によって大きな被害が生じた。
- ウ 2011 年に起きた東北地方太平洋沖地震では、10 メートルを超える津波が押し寄せ、住宅地や農地だけでなく、原子力発電所にも大きな被害をもたらした。
- エ 2016 年に起こった熊本地震では、観測史上初めて、同一地域において震度 7 の地震が連続して発生し、住宅地だけでなく歴史的遺産にも大きな被害を及ぼした。

(5) 次の表は中部地方のうち、愛知県、静岡県、福井県、新潟県、長野県のさまざまな統計を表したものです。長野県と静岡県に該当するものを、表中のア～オからそれぞれ 1 つずつ選び、記号で答えなさい。

県	県の面積 (2021 年) (km ²)	県庁所在地 の人口 (2022 年)(人)	産業別就業者割合(2020 年)(%)			100 世帯あたり の乗用車保有 台数(2021 年)	人口 30 万人 以上の市数 (2022 年)
			第 1 次産業	第 2 次産業	第 3 次産業		
ア	12,584	779,613	5.2	28.4	66.4	153.0	1
イ	4,191	259,642	3.2	31.6	65.1	171.6	—
ウ	13,562	371,651	8.5	28.7	62.8	157.0	1
エ	7,777	689,079	3.5	32.7	63.8	138.4	2
オ	5,173	2,293,437	1.9	32.4	65.7	124.7	6

(『2023 データでみる県勢』より)

- (6) 次の文章は熊本県水俣市に関するものです。これを読み、あとの問い①～③に答えなさい。

日本では1950年代から1960年代にかけて、水質汚濁や大気汚染などの公害が、深刻な問題として取り上げられましたが、(a)四大公害の発生を受けて、1967年に(b)公害対策基本法が制定され、社会全体で対策がとられることになりました。

四大公害のうち、熊本県水俣市で発生した水俣病は多くの人たちを苦しめ、病気だけではなく、市民は差別や偏見にも苦しめられました。1990年代に入り、水俣市では経済成長の過程で発生した水俣病の教訓をもとに、環境にこだわったまちづくりを進めます。その結果、徹底したゴミの分別など、市民と協働で様々な環境政策に取り組んできました。その実績が評価され、2008年に国から「環境モデル都市」に選定されました。2013年には熊本市と水俣市において国際会議が開催され、約140の国と地域が参加した「(c)に関する水俣条約」という国際条約を採択しました。このように水俣市は水俣病の教訓、経験、対策などを発信するとともに、地域再生に取り組んでいます。

- ① 下線部(a)に関して、四大公害病のうち、新潟水俣病が発生したのはある河川の流域です。その河川の名を漢字で答えなさい。
- ② 下線部(b)に関して、公害対策基本法は1993年に制定された法律によって統合され、廃止になりました。この法律は何ですか。漢字で答えなさい。
- ③ 文中の空欄(c)には、水俣病の原因ともなった物質の名が入ります。その名称として最も適当なものを、次のア～オから1つ選び、記号で答えなさい。

ア カドミウム

イ 硫黄酸化物

ウ 窒素酸化物

エ 水銀

オ ダイオキシン

- 3 日本の都市や、そこで起こった出来事に関する資料Ⅰ～Ⅳを読み、あとの問いに答えなさい。
資料はいずれも現代語訳しています。〔 〕は補足を示し、*は後に注があることを示します。

資料Ⅰ (出典：『^{しよくにほんぎ}続日本紀』)

〔和銅元年（708年）二月〕、〔天皇が〕^{みことり}詔を發していうには……平城の地は、……三方に山があり都の守りになっており、……。ここに都を建てるのがよいだろう。

〔和銅三年（710年）三月〕(a)はじめて平城に都をうつした。

資料Ⅱ (出典：『^{にほんきりやく}日本紀略』)

〔延暦十三年（794年）十月〕(b)都がうつされた。〔天皇が〕詔を發していうには、都と定めたこの山背国葛野郡の地は、山川など地形も美しく、諸国の人々が集まるにも便利である……。

〔延暦十三年（794年）十一月〕(c)天皇が詔を發していうには、この都の地形はいわれていたとおりである。この国は山河が襟や帯のように巡り、自然に城のような要害となっている。この様子から新しく呼び名を定めるべきである。山背国を改め山城国とせよ、とのことである。……人々は、一様にしてこの都を平安京と呼んだ。

資料Ⅲ (出典：イエズス会士ガスパル＝ヴィレラによる書簡)

堺の町は非常に大きく、大商人が多数いる。ベネチア市と同様、執政官*が治める共和国のような所である。〔1561年8月17日付、インドのイエズス会修道士らあて〕

日本全国において、この堺ほど安全な場所はなく、他の国々にどれほど騒乱が起きようとも、当地においては皆無である。……騒ぎを起こす者は犯人もその他の関係者も捕われて皆罰せられることによるのかもしれない。……市自体がいつも堅固であり、その西側は海に、また東側は常に満々と水をたたえる深い堀によって囲まれている。〔1562年付、イエズス会の司祭及び修道会士あて〕

*執政官：^{えごうしゅう}会合衆を指す。都市の自治にあたる有力な商人集団のこと。

資料Ⅳ (出典：『^{げきぶん}檄文』)

全国の民が困窮すれば国は滅び、器の小さい人物に国家を治めさせれば災害が相次いで起こるといふ。……この頃米価がますます高値になり、大坂*町奉行所の奉行や役人たちは……わがまま勝手の政治を行い……その上身勝手な^{ふれがき}触書**などを度々出し、大坂市中の大商人だけを大切だと考えるのは、……道徳仁義を知らない愚か者であるからで、大変厚かましく不届きの至りである。

……民衆を悩まし苦しめている諸役人をまず討伐し、続いて贅沢を尽くしている大坂市中の金持ちの町人どもを討滅し、……生活困窮者には金・米などを分けてやるので、大坂市中で騒動が起こったと聞いたら、いつでも、何里離れていようとも、一刻も早く大坂へ駆けつけなさい。

*大坂：「大阪」の旧表記。 **触書：幕府や藩主などから一般の人々に知らせるための文書。

(1) 資料Ⅰ～Ⅳに関する問い①～④に答えなさい。

- ① 資料Ⅰについて、この時に都がうつされるまで、都は、日本で初めての本格的な都城とされる藤原京に置かれていました。藤原京に都をうつした女性天皇は誰ですか。漢字で答えなさい。
- ② 資料Ⅱについて、この時に新たに都がうつされた地で、後に幕府を開いた初代将軍は誰ですか。漢字で答えなさい。
- ③ 資料Ⅲで言及されている「ベネチア」出身のマルコ＝ポーロは、元の頃の中国に至り、13世紀後半に2度の日本遠征を行った皇帝に仕えたとされます。これらの遠征は日本では元寇（蒙古襲来）と呼ばれています。これに対応した執権は誰ですか。漢字で答えなさい。
- ④ 資料Ⅳを発し、「騒動」を1837年に起こした人物は誰ですか。漢字で答えなさい。

(2) 下線部(a)から下線部(b)までの時代について述べた文として誤っているものを、次のア～エから1つ選び、記号で答えなさい。

- ア 税として稲だけでなく、布や特産物なども納められた。
- イ 西日本を中心に、米と麦の二毛作が広く行われていた。
- ウ 新たに開墾した土地の私有が認められるようになった。
- エ 正倉院の宝物にみられるように、国際色豊かな文化が栄えた。

(3) 下線部(c)が示す天皇について述べた文として最も適当なものを、次のア～エから1つ選び、記号で答えなさい。

- ア 律令体制を再建するために、日本で初めての戸籍をつくった。
- イ 国司の不正を取り締まるために、新たに問注所を置いた。
- ウ 坂上田村麻呂を征夷大將軍とし、東北地方へ派遣した。
- エ 紀貫之に命じて、『古今和歌集』を編纂させた。

(4) 資料Ⅱで都が移されてから始まる時代について述べた文 a～c が、起こった年代の古いものから順に配列されているものを、下のア～カから 1 つ選び、記号で答えなさい。

- a 朝廷での権力をめぐり内乱に、後白河天皇が勝利した。
- b 阿弥陀仏にすがることによって往生を願う浄土信仰が広まった。
- c 空海や最澄が、遣唐使とともに唐に渡った。

ア a → b → c イ a → c → b ウ b → a → c
エ b → c → a オ c → a → b カ c → b → a

(5) 資料Ⅲについて述べた文 a・b と、資料Ⅳについて述べた文 c・d のうち、正しいものの組み合わせを、下のア～エから 1 つ選び、記号で答えなさい。

【資料Ⅲについて述べた文】

- a 堺には商人が多く、市政は自治によって行われていたことが読み取れる。
- b 堺は織田信長の保護のもとで安全が保たれていたことが読み取れる。

【資料Ⅳについて述べた文】

- c この当時、米価が下落しており、主に民衆が貧困にあえいでいたことが読み取れる。
- d この当時、「全国の民が困窮」していることの背景には、天保の飢饉^{ききん}が挙げられる。

ア a-c イ a-d ウ b-c エ b-d

(6) 資料Ⅳが発せられた 19 世紀前半の東アジアについて述べた文として正しいものを、次のア～エから 1 つ選び、記号で答えなさい。

- ア 清には、ドイツがインドで生産して密輸していたアヘンが流入していた。
- イ 江華島事件が起こった翌年、日本は朝鮮に日朝修好条規を結ばせた。
- ウ 老中水野忠邦が改革を行い、商工業の活発化を図って株仲間の結成を奨励した。
- エ 日本では、江戸を中心とした文化が栄え、葛飾北斎が『富嶽三十六景』を版行した。

社会科の問題は次のページに続きます。

- 4 ある中学校の「歴史」の授業で、身近な料理の歴史を調べて発表することになりました。以下の5枚のメモは、日本におけるカレーライスの歴史について調べたあるクラスの1～5班が、発表準備のために作成したものです。これらを読み、あとの問いに答えなさい。

1班 「日本人とカレーライスの出会い」

- 福沢諭吉は(a)日米修好通商条約の批准書の交換使節と共に渡米し、『増訂華英通語』の中で“curry”を「コルリ」と紹介した。ただし、福沢が curry を実際に食べたかは明らかではない。
- 初めて「ライスカレー」を食べようとした人は山川健次郎とされる。彼は1871年に国費留学生として渡米する船中で「ライスカレー」に向き合ったものの、実際は「ライス」のみを食べたという。

2班 「(b)文明開化とカレー」

- 1872年に『西洋料理通』、『西洋料理指南』が出版され、カレーの作り方が紹介される。
- 陸軍幼年学校や札幌農学校などでもメニューとして取り入れられる。

3班 「カレーライスの大衆化 ——(c)大正時代から(d)昭和時代初期を中心に——」

- この時代には(e)社会が大きく変化し、個人の生活の洋風化も進んだ。
- 1929年、阪急百貨店が開業。大食堂で「ライスカレー」がメニューとなり、多くの人に楽しまれた。

4班 「新宿中村屋の『純^{インド}印度式カレー』」

- 「純印度式カレー」は、ラース＝ビハーリー＝ボースが、新宿中村屋喫茶部のメニューとして提案し、1927年に発売されたものである。高価だが売り上げはよかった。
- (f)ラース＝ビハーリー＝ボースは、インド出身。インドの民族運動に参加し、弾圧を受けたことで、1915年に来日した。しかし同年、日本政府から国外退去命令を受けた。彼をかくまったのが新宿中村屋である。

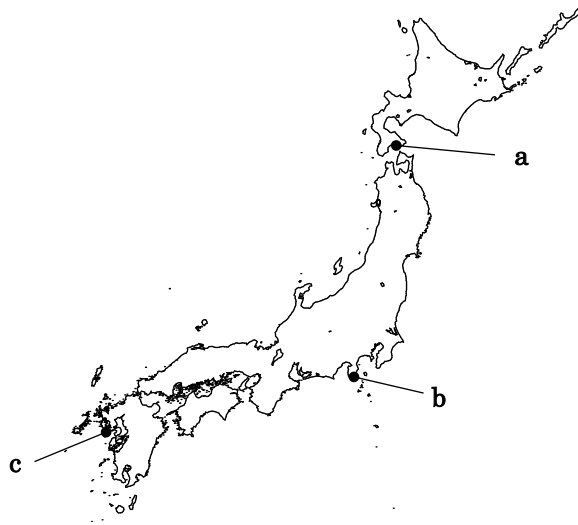
5班 「太平洋戦争後のカレーライスの普及」

- (g)1950年に固形カレールウが発売された。
- (h)1968年に初のレトルトカレーが発売された。
- 学校給食でもカレー粉を使った料理や、カレーライスが献立となる。

- (1) 下線部(a)について、以下の文 X と Y のうち、どちらがこの条約の条文として適当ですか。また、下の地図中 a～c のうち、どれがこの条約で新たに開港地となった港の位置ですか。その組み合わせとして正しいものを、下のア～カから 1 つ選び、記号で答えなさい。

X 「……の両港は、……アメリカ船が薪水・食料・石炭など欠乏品を日本で調達できるだけは供給するので渡来することを許す。」

Y 「日本人に対し法を犯したアメリカ人は、アメリカ領事裁判所で取り調べのうえ、アメリカの法律で処罰すること。」



- | | | | | | |
|---|-----|---|-----|---|-----|
| ア | X-a | イ | X-b | ウ | X-c |
| エ | Y-a | オ | Y-b | カ | Y-c |

- (2) 下線部(b)について述べた文として最も適当なものを、次のア～エから 1 つ選び、記号で答えなさい。

- ア 欧米諸国にならい、太陽暦の使用が始まった。
- イ 新橋・上野間に初めての鉄道が開通した。
- ウ 街灯として電灯が広く用いられた。
- エ ラジオ放送が、多くの人々に楽しまれた。

(3) 下線部(c)の時代について述べた文として最も適当なものを、次のア～エから1つ選び、記号で答えなさい。


- ア 不平等条約改正の交渉を主な目的とし、岩倉使節団が派遣された。
- イ 樺太(サハリン)がロシア領、千島列島が日本領と定められた。
- ウ 中江兆民が『民約訳解』を著し、ルソーの思想を紹介した。
- エ パリ講和会議で、日本は中国におけるドイツ利権の継承を認められた。

(4) 下線部(d)に関して、次の図Ⅰ・Ⅱはいずれも昭和時代に発行された新聞記事です。図Ⅰ・Ⅱと、それぞれの記事が発行された時期を示す、下の年表中の空欄 a～c の組み合わせとして最も適当なものを、下のア～カから1つ選び、記号で答えなさい。なお、図中の吹き出しは、記事の文字の一部を平易に改めたものであり、〔 〕は出題者による補足を示します。

図Ⅰ



図Ⅱ



(図Ⅰは「東京日日新聞」、図Ⅱは「朝日新聞」の記事。日付は出題の都合上省略。)

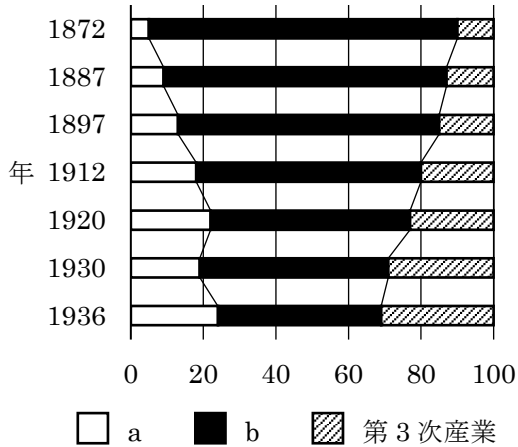
年表

a
1931年 満州事変が始まる。
b
1936年 二・二六事件が起こる。
c

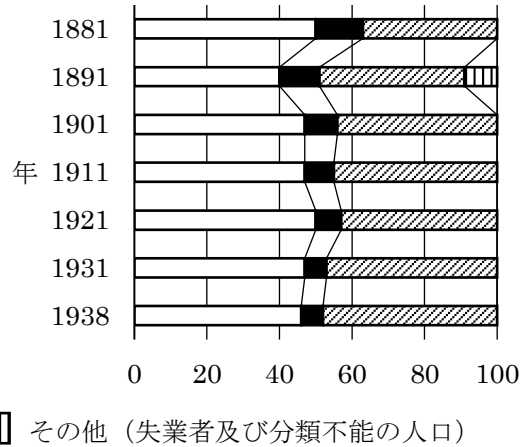
- ア 図Ⅰ - a 図Ⅱ - b イ 図Ⅰ - a 図Ⅱ - c ウ 図Ⅰ - b 図Ⅱ - a
- エ 図Ⅰ - b 図Ⅱ - c オ 図Ⅰ - c 図Ⅱ - a カ 図Ⅰ - c 図Ⅱ - b

- (5) 下線部(e)に関連して、次のグラフⅠ・Ⅱは、日本またはイギリスの産業別人口構成の割合（単位：％）の推移を示したものです。グラフ中の a・b は、第1次産業または第2次産業のいずれかを示します。グラフⅠ・Ⅱのどちらが日本を示すかと、a・bのどちらが第1次産業を示すかが正しく組み合わされているものを、下のア～エから1つ選び、記号で答えなさい。

グラフⅠ



グラフⅡ



『明治以降本邦主要経済統計』をもとに作成

- ア 日本：Ⅰ - 第1次産業：a イ 日本：Ⅰ - 第1次産業：b
ウ 日本：Ⅱ - 第1次産業：a エ 日本：Ⅱ - 第1次産業：b

- (6) 下線部(f)について、4班の生徒3人（ひろと、あおい、れん）は、日本政府がラース＝ビハーリー＝ボースに国外退去命令を出した歴史的背景を、次のように推測しました。3人の推測について述べた文として最も適当なものを、下のア～エから1つ選び、記号で答えなさい。

ひろと「日本がイギリスと交戦中だったのが、その背景だよ。」

あおい「日本がイギリスに対して領事裁判権を認めているのが、その背景じゃないかな。」

れん「日本とイギリスの間に同盟関係があったのが、その背景だと思うよ。」

- ア ひろとさんの推測は適当である。 イ あおいさんの推測は適当である。
ウ れんさんの推測は適当である。 エ 全員の推測が適当である。

- (7) 下線部(g)から下線部(h)の間に起こった出来事について述べた文として誤っているものを、次のア～エから1つ選び、記号で答えなさい。

- ア 第1次石油危機が起こった。 イ 日本が国際連合に加盟した。
ウ 朝鮮戦争の休戦協定が成立した。 エ 自衛隊が創設された。

5 以下のニュースサイトを見て、あとの問いに答えなさい。

Hibari News



貿易赤字8976億円、2月で最大
(a)円安・対中輸出停滞続く

〇〇ニュース 4時間前



(b)ウクライナ侵攻から1年
プーチン大統領、戦術核配備か

〇〇ニュース 8時間前

<新着ニュース>

異次元少子化対策の
骨子固まる

3分前

75歳以上の医療保険料の
引き上げ

8分前

G7(e)環境相会合開催に
向け準備すすむ

30分前



(c)死刑判決一転、再審認める
「一日も早く再審公判を」

〇〇ニュース 1日前



(d)統一地方選挙
「町村長選6割近く無投票か」

〇〇ニュース 1日前

(1) 下線部(a)に関連して、次の文章中の ・ ・ に当てはまる語句の組み合わせとして正しいものを下のア～クから1つ選び、記号で答えなさい。

下の場合を考える。ただし、交換手数料などは考えないこととする。

1ドル=120円するとき、180万円を持ってアメリカに行ってドルと交換したとき ドルになる。その後、円・ドルの為替レートが変動した結果、1ドル= 円となったときに、アメリカに行って180万円をドルに交換すると2万ドルとなる。このとき、円・ドルの為替レートは以前より になっていることになる。

- | | | | | | | | |
|---|----------|-------|------|---|----------|-------|------|
| ア | A-15,000 | B-90 | C-円高 | イ | A-15,000 | B-90 | C-円安 |
| ウ | A-15,000 | B-150 | C-円高 | エ | A-15,000 | B-150 | C-円安 |
| オ | A-30,000 | B-90 | C-円高 | カ | A-30,000 | B-90 | C-円安 |
| キ | A-30,000 | B-150 | C-円高 | ク | A-30,000 | B-150 | C-円安 |

- (2) 下線部(b)に関連して、国際協調と国際機構について述べたものとして正しいものを、次のア～エから1つ選び、記号で答えなさい。

ア やむを得ず戦争状態になった際のルールとして戦時国際法が定められている。

イ 国家間の紛争を裁く国際司法裁判所において、日本は紛争当事国になったことがない。

ウ 2023年現在、ヨーロッパのすべての国が北大西洋条約機構(NATO)に加盟している。

エ 国際連合の安全保障理事会では、協定違反国に対して経済制裁のみが実施できる。

- (3) 下線部(c)に関連して、次のカードA～Cは、日本国憲法の条文を抜粋したカードです。それぞれのカードと合致する記述を以下の①～③から選んだとき、その組み合わせとして最も適切なものを後のア～カから1つ選び、記号で答えなさい。

カードA

何人も、法律の定める手続によらなければ、その生命若しくは自由を奪はれ、又はその他の刑罰を科せられない。

カードB

何人も、実行の時に適法であつた行為又は既に無罪とされた行為については、刑事上の責任を問はれない。

カードC

何人も現行犯として逮捕される場合を除いては、権限を有する司法官憲が発し、且つ理由となつている犯罪を明示する令状によらなければ、逮捕されない。

- ① 令状主義 ② 遡及処罰の禁止 ③ 罪刑法定主義

ア A-① B-② C-③ イ A-① B-③ C-②

ウ A-② B-① C-③ エ A-② B-③ C-①

オ A-③ B-① C-② カ A-③ B-② C-①

- (4) 下線部(d)に関連して、以下の表は、平成 27 年度～令和 2 年度にかけての地方の歳入決算額の推移を示したものです。歳入項目の特徴と、表から読み取れる内容を述べた文として**適当でないもの**を、下のア～エから 1 つ選び、記号で答えなさい。

区分	歳 入 決 算 額 (単位：百万円)					
	平成 27 年度	平成 28 年度	平成 29 年度	平成 30 年度	令和元年度	令和 2 年度
地方税	39,098,563	39,392,391	39,904,402	40,751,442	41,211,450	40,825,620
地方交付税	17,390,640	17,239,008	16,768,005	16,548,225	16,739,246	16,988,952
国庫支出金	15,282,155	15,687,149	15,520,357	14,885,189	15,834,380	37,455,724
地方債	10,688,010	10,387,277	10,644,892	10,508,424	10,870,548	12,260,718
その他	19,458,128	18,754,023	18,485,659	18,652,005	18,590,257	22,516,225
歳入合計	101,917,496	101,459,848	101,323,315	101,345,285	103,245,881	130,047,239

(総務省『地方財政白書』をもとに作成)

- ア 地方税と地方交付税とを合わせて、地方自治体にとって使い道が決められていない財源を一般財源といい、歳入に占める割合は 4 割を超えている。
- イ 地方税は住民税や事業税のほか、自動車税や固定資産税が含まれ、増収傾向であったが令和 2 年度は前年に比べて減収となっている。
- ウ 国庫支出金は、義務教育の実施、道路整備などの公共事業、社会保障関係の業務などに使用が限定されており、近年では支出額は大きく変化していない。
- エ 地方債は、後に元金や利子の支払いがあり、その負担が大きいと、他の施策に充てる予算を圧迫するという問題が指摘されているが、歳入に占める割合は 1 割程度である。
- (5) 下線部(e)に関連して、次の文章の空欄 ・ に当てはまる都市名を答えなさい。

地球環境を守るために国際協力は欠かせない。1972 年にストックホルムで国際会議として国連人間環境会議が開催された。この会議では、「かけがえのない地球」をスローガンに環境問題における国際協力が確認された。1992 年の国連環境開発会議（地球サミット）では、地球温暖化防止を目的に気候変動枠組み条約が結ばれた。二酸化炭素などの排出量を 2000 年までに 1990 年のレベルに戻す努力目標を設定したものの、拘束力がないことが課題としてあげられた。1997 年に採択された 議定書では、国や地域ごとに目標とする二酸化炭素の削減量が約束された。2015 年に採択された 協定では、産業革命前と比べた気温上昇を世界全体で 2 度未満におさえる目標を立て、発展途上国を含む国や地域が削減目標を作成し、維持することが決まった。アメリカ合衆国はトランプ大統領のときに離脱を表明したものの、バイデン大統領が就任するとこの協定に復帰することになった。

社会科の問題は次のページに続きます。

6 中学生のヒバリさんは、公民の授業で「世代間の公平」に関する様々な問題について学んで興味を抱きました。ヒバリさんは、財政や年金、選挙制度の問題についてインターネットや書籍で、より詳しく調べることにしました。あとの問いに答えなさい。

(1) ヒバリさんは、「世代間の公平」を調べるにあたり、マスメディアの情報を収集することにしました。マスメディアや情報収集について述べた文として最も適当なものを、次のア～エから 1 つ選び、記号で答えなさい。

ア マスメディアはインターネットや SNS (ソーシャル・ネットワーキング・サービス) のことを指し、新聞、テレビ、ラジオ、雑誌など一方向的なものは含まない。

イ 世論調査は、マスメディア以外にも政府機関や民間機関でも行われるが、その結果が政治に与える影響はごくわずかである。

ウ インターネットのサイトから必要な情報を選択し、情報の価値を見極める能力は、今日のメディア・リテラシーの概念に含まれていない。

エ 情報を収集するにはインターネットだけでなく、さまざまな媒体を活用することで情報源を多様にし、情報の^{しんぴようせい}信憑性を確認することが重要である。

(2) ヒバリさんは、「公平な税負担」が世代間の公平において重要な課題だと考え、調べることにしました。税制に関して述べた文として正しいものを、次のア～エから 1 つ選び、記号で答えなさい。

ア 公共財の利益を受ける人が税金を負担すべきという考え方は、累進課税制度という。

イ 租税を直接税と間接税に分ける場合、納める人と負担する人が同一である税は間接税であるといえる。

ウ 日本の一般会計歳入の税収において、消費税、所得税、法人税が大部分を占める。

エ 所得の多い人が多くの税金を負担し、少ない人は税金を少なくする考え方を、受益者負担という。

- (3) ヒバリさんは、リビングにいた祖父と公的年金の問題について話し合いました。そのなかでヒバリさんは年金制度についてより詳しく調べ、その考察をメモにまとめました。メモの考察について**適当でないもの**を、次のア～エから1つ選び、記号で答えなさい。

ア

【調べたこと】

- ・老齢年金は原則として65歳以上の高齢者に支給される。
- ・年金の給付額は2023年度の予算ベースで約60兆円になる。

【考察】

一般会計歳出において社会保障費が大きな割合を占めており、財政がひっ迫している。そのため、年金の給付年齢は引き下げるべきだ。

イ

【調べたこと】

- ・国民年金は法律により20歳以上の加入が義務づけられている。
- ・納付率は下がっていたが、最近では少しずつ上昇している。

【考察】

納付率が下がっていたのは、世代間の不公平が原因の可能性はある。保険料の負担を減らしたり、収入が少ない人へ納付を猶予ゆうよしたりする必要がある。

ウ

【調べたこと】

- ・公的年金は国民年金と厚生年金がある。
- ・厚生年金の加入者は主に会社員や公務員などで、約4500万人いる。

【考察】

自営業者やフリーランスの人は、国民年金のみの加入になるため支給額が下がる。任意に加入できる国民年金基金や確定給付企業年金などの制度を充実させていくべきだ。

エ

【調べたこと】

- ・自分の年金は自分で積み立てる積立方式がある。
- ・現役世代の保険料がそのまま高齢者にわたる賦課ふか方式がある。

【考察】

積立方式は給付額が安定しているが、インフレに弱い。賦課方式はインフレや給付水準の変化に対応しやすいが、現役世代の保険料負担増大や年金受給額削減もある。それぞれ一長一短であり、選択は慎重にすべきだ。

(4) ヒバリさんは、選挙においても世代間の公平性に欠けるのではないかと考えました。調べると、選挙における世代間の公平性は、高齢者の政治的影響力が若い世代よりも大きいという現状に関する問題があることが分かりました。高齢者は投票率が高く、政策に対しても強い要求を持っています。その結果、高齢者に有利な政策が優先され、若い世代の負担が増えるという「シルバー民主主義」が生まれています。

ヒバリさんは、さらに民主主義政治に参加する方法について調べました。民主主義には、代表が集まってものごとを決する間接民主主義、人々が直接集まってものごとを決する直接民主主義、多数決による決定だけでなく、意見の異なる政治勢力との間の合意を重視するコンセンサス型民主主義などがあることを知りました。

これらを踏まえたうえで、次の文章の空欄 **A** ~ **C** に入る語句の組み合わせとして最も適当なものを、下の **ア** ~ **カ** から 1 つ選び、記号で答えなさい。

立憲民主主義とは、政治権力の専制化や恣意的^{しいてき}支配を憲法や法律、民主的な政治制度によって防止・制限・抑制しようとする思想原理です。立憲民主主義のもと、国民は公民として政治に参加することになりました。しかし、近代国家では、一か所に集まって全員で話し合うといっても、国民はあまりにも大勢であり、集まることができる場所もありませんでした。**A** が行われた時代よりはるかに国民の利害が多様となり、意見も多岐にわたっています。フランス革命では、国民主権の原理が掲げられましたが、**A** を導入することは困難でした。そこで、**B** の思想が誕生し、**A** と対立する概念となりました。議会制民主主義ともいわれる **B** では、一般に同じ考え方の人たちと政党という集団をつくります。政党に所属する議員は手分けして政策を研究したり、話し合いをすることによって効率的にものごとを進めたりします。**C** は、国土が小さく人口の少ないヨーロッパで見られた民主主義です。政治的な対立や競争を抑制し、協力や妥協を促進する傾向があります。そのため政党間の連立政権や協調政治が多く、議会内に多数派と少数派が明確に分かれないなどの特徴があります。

- | | | | |
|----------|-----------------|-----------------|-----------------|
| ア | A – 間接民主主義 | B – 直接民主主義 | C – コンセンサス型民主主義 |
| イ | A – 間接民主主義 | B – コンセンサス型民主主義 | C – 直接民主主義 |
| ウ | A – 直接民主主義 | B – 間接民主主義 | C – コンセンサス型民主主義 |
| エ | A – 直接民主主義 | B – コンセンサス型民主主義 | C – 間接民主主義 |
| オ | A – コンセンサス型民主主義 | B – 直接民主主義 | C – 間接民主主義 |
| カ | A – コンセンサス型民主主義 | B – 間接民主主義 | C – 直接民主主義 |

社会科の問題は以上です。

1

(1) (2) (3)

(4) (5) (6)

小計

2

(1) (2) (3) (4)

(5) (6)

小計

3

(1) (2)

(3) (4)

(2) (3) (4)

(5) (6)

小計

4

(1) (2) (3) (4)

(5) (6) (7)

小計

5

(1) (2) (3) (4)

(5) (6)

小計

6

(1) (2) (3) (4)

小計

受験番号	<input type="text"/>	総点	<input type="text"/>
------	----------------------	----	----------------------

1 (1) (2) (3)

(4) (5) (6)

小計

2 (1) (2) (3)

(4) (5)

(6)

小計

3 (1)

(2) (3) (4)

(5) (6)

小計

4 (1) (2) (3) (4)

(5) (6) (7)

小計

5 (1) (2) (3) (4)

(5)

小計

6 (1) (2) (3) (4)

小計

受験番号	<input type="text"/>	総点	<input type="text"/>
------	----------------------	----	----------------------